

7 昔も今も、働く、働く。

写真は、なにをする仕事の人でしょうか？ 展示を見て仕事内容を調べましょう。



鍛冶司：展示室3

鉄製品をつくる仕事。
(釘などをつくる仕事)



大膳職：展示室4

料理をつくる仕事

8 古代もリサイクル 展示室4

1 ごみを資源に変えて再利用することを「リサイクル」といいます。
平城宮では、平城京にうつる前の都・藤原京で使っていた柱や、柱をささえる石(礎石)や、瓦などをリサイクルしていました。



写真の細長い木製品は、リサイクル前は
何につかわれていたものですか。

柱もしくは塀

リサイクル後は何になりましたか。

木樋 (もくひ)
もしくは排水管

2 現在、リサイクルできるもので
作られている製品には、
リサイクルマークの絵を描いて
みましょう。



左の他、多数正解があります。
実際に使われているものを
正解としてください。

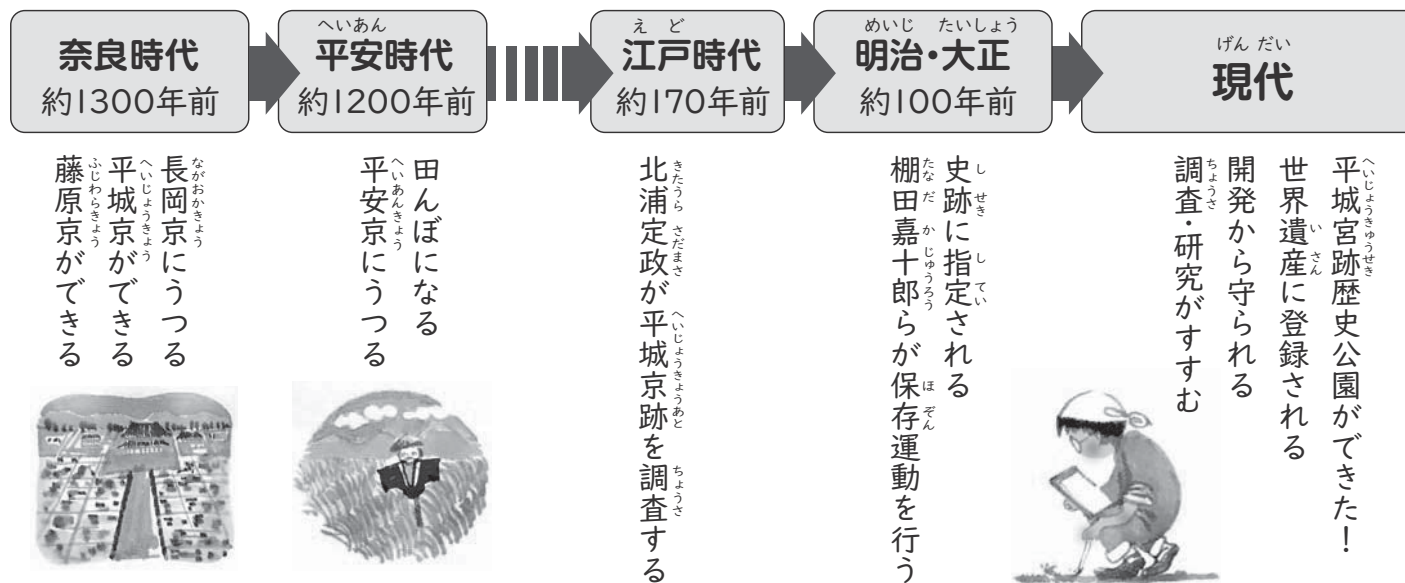
作られているものによって
マークがちがうよ

ヒント

解答

小学校 年 組 名前

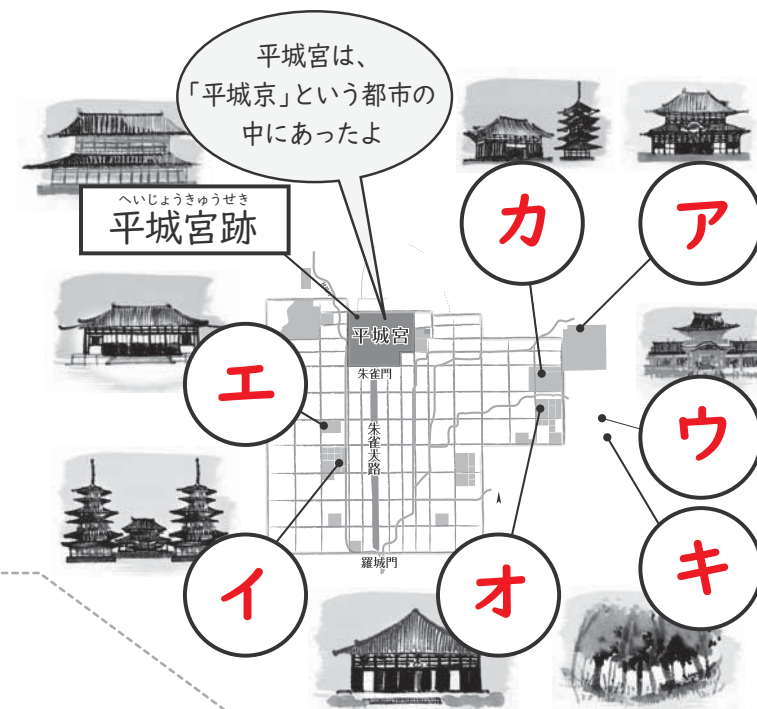
<平城宮いざない館> 世界遺産学習シート



1 世界遺産「古都奈良の文化財」

平城宮跡以外の世界遺産に登録された場所は、どこにあるでしょう。○の中に記号を入れましょう。

- ア 東大寺
- イ 薬師寺
- ウ 春日大社
- エ 唐招提寺
- オ 元興寺
- カ 興福寺
- キ 春日山原始林



2 文化財の保存につくした人々

次の文の()に当てはまる人の名前を、記号で答えましょう。

- 江戸時代、(**イ**)は、自分で作った道具で測量し、古い記録も研究しながら、平城京の復元図を完成させました。
- 右の写真は、平城宮跡の保存の土台を作った(**ア**)の像です。明治から大正にかけて平城宮跡の保存に力をつくしました。

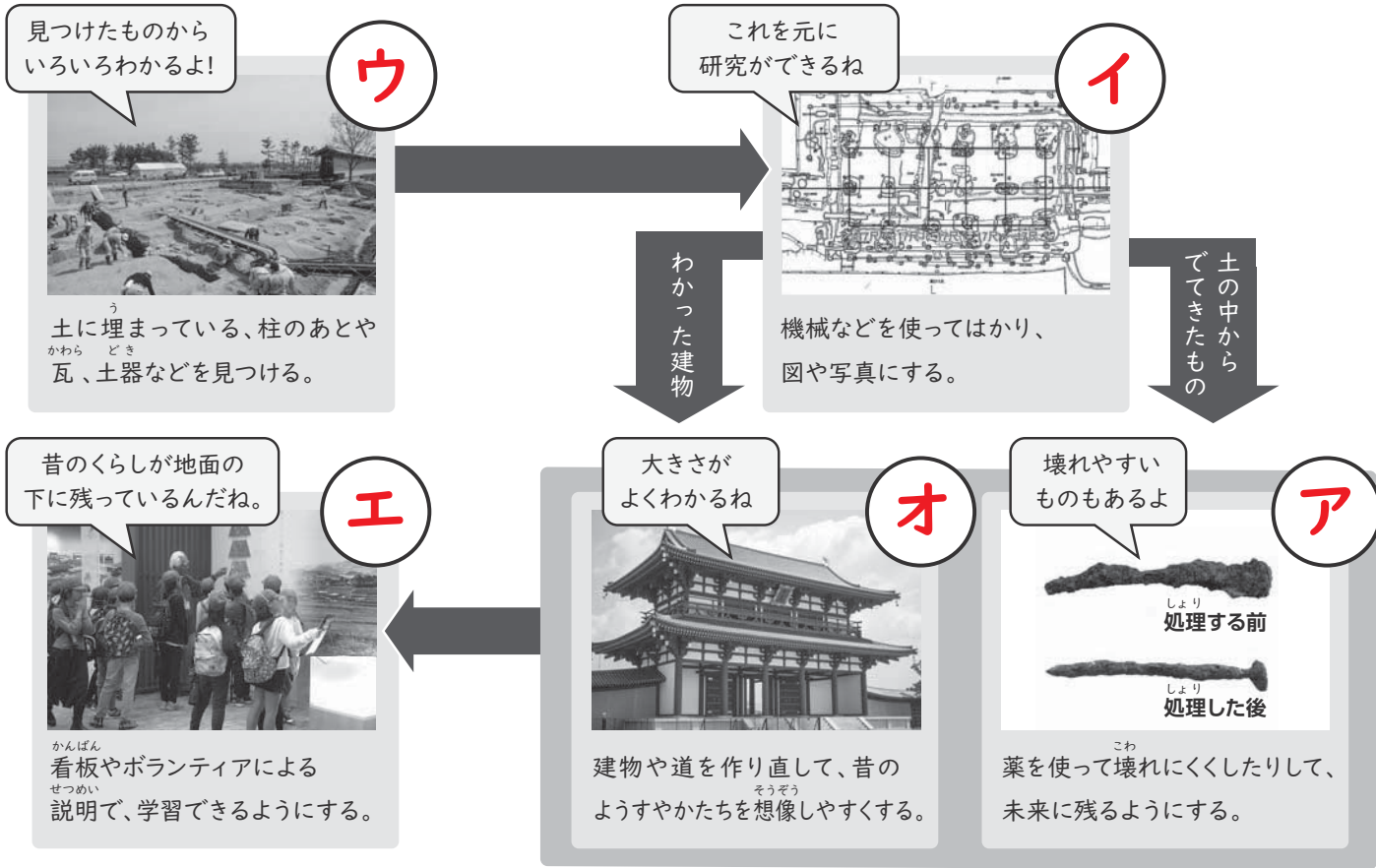


- ア 棚田嘉十郎
- イ 北浦定政
- ウ 伊能忠敬
- エ 阿倍仲麻呂

3 文化財を保存するための作業・活動

文化財を未来に残していくためには、さまざまな作業・活動が必要です。説明にあてはまる用語を、
からえらんで、記号で答えてください。

- ア 保存
- イ 測量
- ウ 発掘調査
- エ 活用
- オ 復元



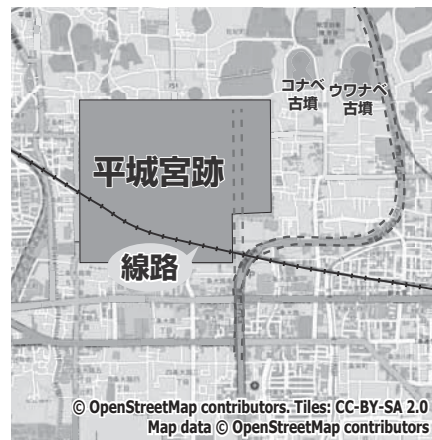
4 文化財の保護

1 国道24号バイパス(道路)を作るとき、初めの計画では---のまっすぐな道になる予定でしたが、---に変更されました。なぜだと思いますか? 正しいものに○をつけましょう。

- () 川や山をよけるため
- () 遺跡を壊さないようにするため
- () 市役所や病院に行きやすくするため

2 平城宮跡には電車の線路が走っています。なぜだと思いますか? 正しいものに○をつけましょう。

- () 遺跡がもっとせまいと考えられていたから
- () 電車からよく見えるようにしたかったから
- () 古代の道路上に線路をつくったから



ヒント
線路ができたのはほんかくてき ちようさ 本格的な調査が始まる前だよ。

5 古代の道「朱雀大路」

朱雀門の前の大きな道は、復元した「朱雀大路」です。(あなたがいる「平城宮いざない館」の前の道です。)



1 大きさを調べて書きましょう。 **てんじしつ 展示室1**

幅: 約 **74** メートル
長さ: 約 **4** キロメートル

2 朱雀門の前は、絵のように広場としても使われていました。今、みんなで楽しめるイベントをするなら、なにをしますか? あなたの考えを書いてください。

チャレンジ問題

奈良時代には、元旦の儀式や、外国の使節の送迎、歌をかけ合う歌垣というイベントが行われました。
現在は、天平祭などのイベントで使用されています。朱雀大路の広さを生かしたアイデアを出してください。

6 発掘されたものからわかる、昔の暮らし **展示室3,4**

1 写真の **ア** はなんというものですか? 名前を書きましょう。

木簡 (もっかん)

2 **ア** は何に使われたものですか? いまの文房具の名前で書いてください。

ノート、メモ、荷札など、紙・札類

3 **ア** に書かれていた文字から、奈良時代のことわかります。昔の調味料にはどんなものがありますか? 展示を見て書きましょう。

塩 酢 醬 末 醬 豉 糖 など

4 奈良時代のもので、あなたが食べてみたいものはなんですか? 展示を見て、書きましょう。

チャレンジ問題

展示されている食べ物を書いていけば正解としてください。ワカメ、米、アユ、サザエ、ウニ、ササゲ、クルミ など



平城宮跡で出土したものにはなんと国宝もあるんだよ!